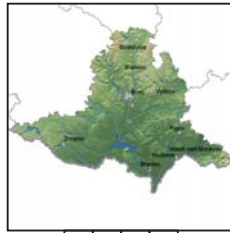


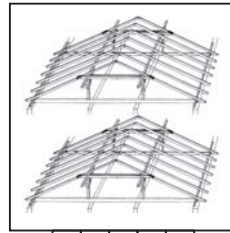
V _ _ _




_ _ _ _



_ _ _ _



_ _ _ _



V _ _ _ V



_ M _ _ _ V

$$2x = b + 1$$

$$c = 4y$$


_ _ _ _ _



_ _ _ _ M _



_ _ _ _ V



_ _ _ _ M _



_ M _ V

$$1 + 1$$

$$=$$

$$\underline{\underline{2}}$$

_ _ _ _ _



_ _ _ V

DALBEZTEHLEDATZADANITAMKDE
 JSJSVVZVSZVZVZVSZSZVJZVJSS
 ZZVVVJ SJZSVZJSZZSVVSJVZJ
 ZZVVJZ VZZVJVSZJZVJZZV V
 S SVZ ZZSZ JSVZ SZZ Z
 V VZ VJ SZ Z

JEPOMNIKPRVNIHOSVATKUPRACE

S

Je třeba sestavit dvacetišestistěn a na něm posouváme písmena:

DALBEZTEHLEDATZADANITAMKDE podle světových stran a získáme:

JEPOMNIKPRVNIHOSVATKUPRACE.

Pro určení správné orientace je na severu **S**, na jihu **J** a na rovníku **ROVNICEK**.

T

M

Y

G

F

P

L

Z

R

O

V

N

I

C

E

K

A

U

Q

X

W

H

D

B

J